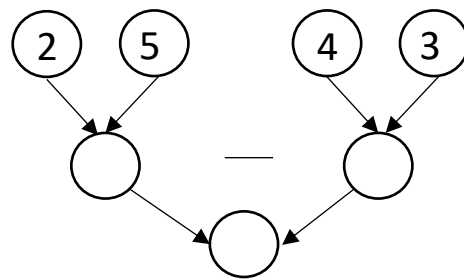
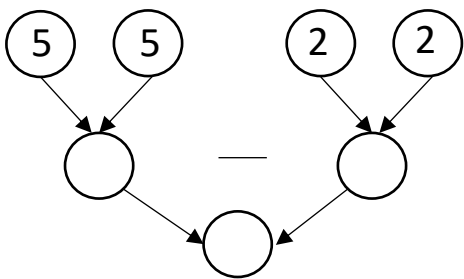


9) Observă și completează:

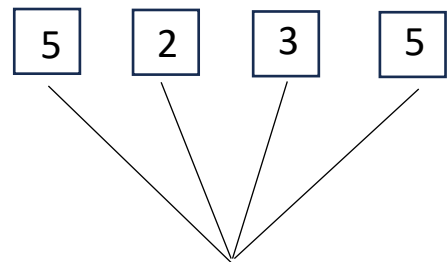
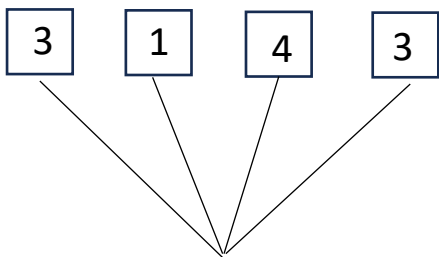
| | 8 | 6 | 5 |
|----------|---|---|---|
| $3 + 5$ | X | | |
| $4 + 1$ | | | |
| $10 - 5$ | | | |
| $6 - 0$ | | | |
| $10 - 2$ | | | |



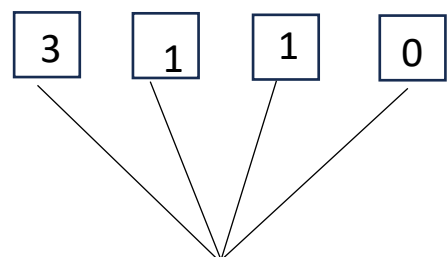
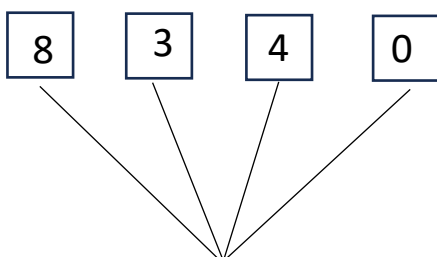
10) Completează cerculețele:



11) Colorează casetele pentru a avea suma 10:

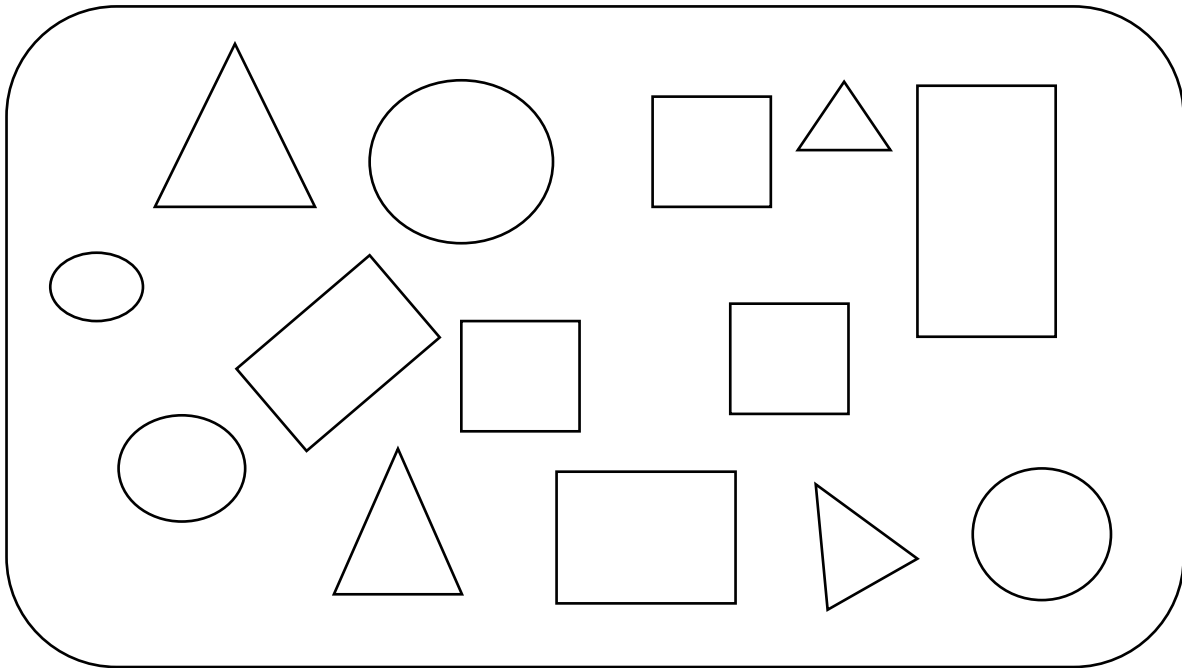


12) Colorează 3 casete pentru a obține diferența 4:

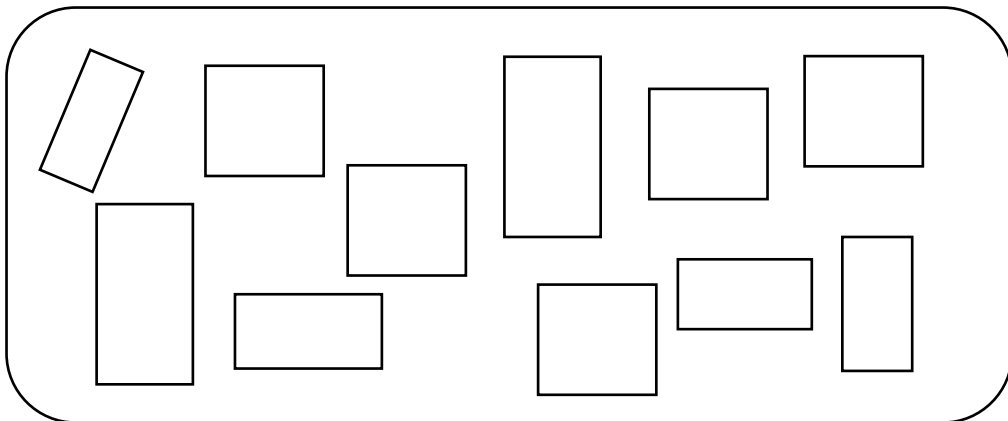


CÂTEVA PAGINI DE... GEOMETRIE

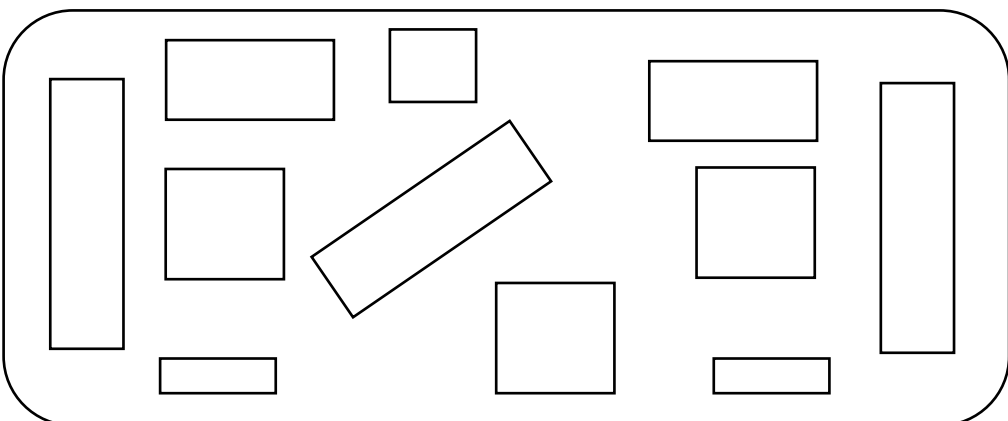
1) Colorează cu roșu pătratele, cu verde triunghiurile, cu albastru dreptunghiurile și cu galben cercurile.



2) Colorează doar pătratele:



3) Colorează doar dreptunghiurile:



RECREAȚII MATEMATICE

1) Dezleagă rebusul!

1. Răsturnatul lui 21 / succesorul lui 20
 2. Cel mai mare număr par de o cifră / cel mai mic număr impar de o cifră
 3. Număr cuprins între 5 și 7
 4. Număr de două cifre identice / $10 - 8$
 5. Treizeci și unu / $4 + 5$
- A. Între 0 și 2 / $1 + 1$
B. $14 + 14 / 27 - 3 = \underline{\quad}$
C. $2 + 2 + 2 /$ după 0
D. $3 - 1$
E. Cu două cifre identice cuprins între 10 și 20 / Predecesorul lui 30

| | A | B | C | D | E |
|---|---|---|---|---|---|
| 1 | | | | | |
| 2 | | | | | |
| 3 | | | | | |
| 4 | | | | | |
| 5 | | | | | |

